

Mérjük időt!

1. Írd le a mai dátumot!

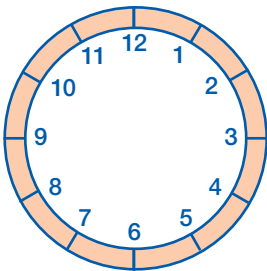
év: _____ hó: _____ nap: _____ időpont: _____

2. Írd le a hónapok nevét!

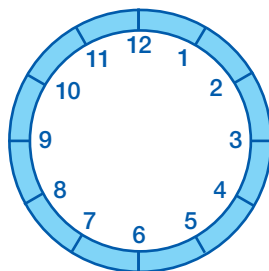
I. _____ III. _____ V. _____

IX. _____ X. _____ XII. _____

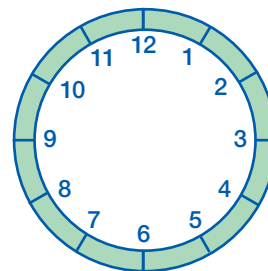
3. Rajzold az órákra a mutatókat!



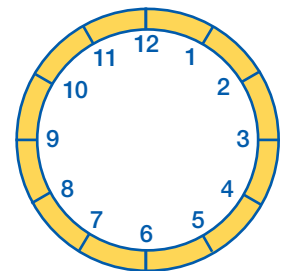
6 óra



13 óra

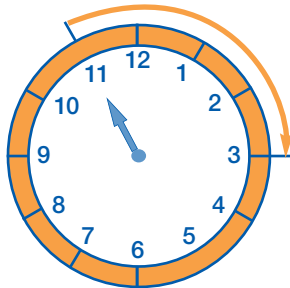


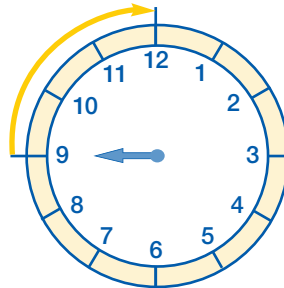
10 óra

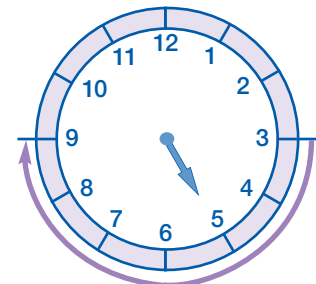


18 óra

4. Hány óra telik el, amíg a kismutató a színes nyíl végéig ér?







5. Kriszti a jövő szerda délután kirándulni megy. Hány nap múlva?

A mai dátum: _____

A jövő hét szerdája: _____

Az eltelt napok száma: _____

6. Egészítsd ki a feladatokat!

a) $20 \text{ perc} + \text{_____ perc} = 1 \text{ óra}$

$1 \text{ óra} - 25 \text{ perc} = \text{_____ perc}$

b) $\text{_____ perc} + 6 \text{ perc} = 1 \text{ óra}$

$\text{fél óra} = 25 \text{ perc} + \text{_____ perc}$